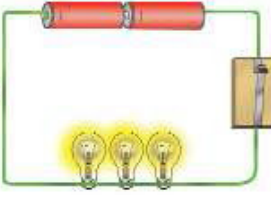
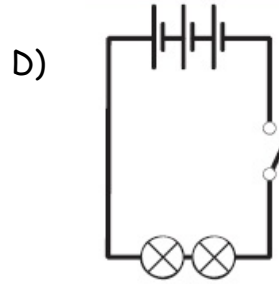
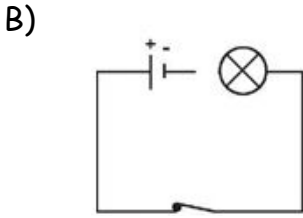
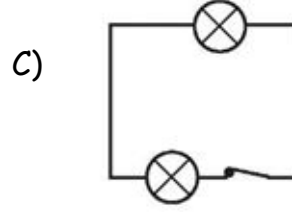
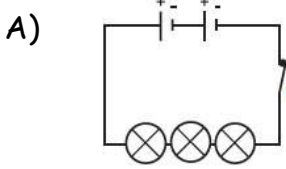


FEN ve TEKNOLOJİ  
TESTİ

Soru 1.



Şekildeki devrenin sembolik gösterimi aşağıdakilerden hangisidir?



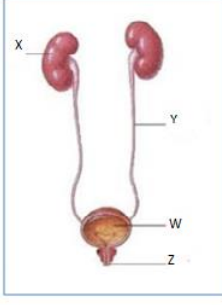
Soru 2. Aşağıda sindirimde görevli yapı ve organlar numaralar ile verilmiştir.

- I. İnce bağırsak
- II. Ağız
- III. Kalın bağırsak
- IV. Mide

Sindirim gerçekleşme sırası aşağıdakilerden hangisinde doğru olarak verilmiştir?

- A) III, II, IV, I,
- B) IV, III, II, I
- C) II, IV, I, III
- D) II, III, I, IV

Soru 3.



Boşaltım sistemi şekilde gösterilmiştir.

Aşağıdaki görevlerden sorumlu olan kısımlar (X,Y,W ve Z) hangi şıkta doğru olarak eşleştirilmiştir?

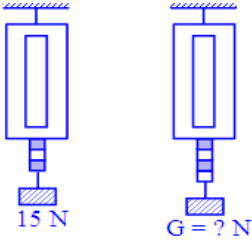
Görev I- Kanı zararlı atıklardan arındırmak.

Görev II- İdrarın vücut dışına atılmasını sağlamak.

Görev I    Görev II

- |      |   |
|------|---|
| A) X | Y |
| B) W | X |
| C) Y | Z |
| D) X | Z |

Soru 4.



15 N' luk ağırlığın asıldığı dinamometre 3 birim uzuyor.

G cismi asıldığında ise, dinamometre 4 birim uzadığına göre G cisminin ağırlığı kaç Newton'dur?

- A) 15                      B) 20                      C) 30                      D) 40

Soru 5. Gülin annesine yemek yaparken yardım etmektedir. Yemeğin pişip pişmediğini kontrol etmek amacıyla, tencerenin kapağını kaldırdığında kapağın iç yüzeyinde su damlacıkları olduğunu görür. Bu su damlacıklarını aşağıdakilerden hangisine benzetebiliriz?


- A) Kar  
B) Yağmur  
C) Sis  
D) Bulut

Soru 6. Farklı ortamlardaki ses kaynaklarından hangilerinin sesi duyulabilir?

Cep Telefonu  Boşlukta	Müzik Seti  Bahçede	Plazma Tv  Boşlukta
---	--	---

- A) Yalnız cep telefonu
- B) Yalnız plazma tv
- C) Yalnız müzik seti
- D) Müzik seti ve plazma tv

Soru 7. Aşağıda bazı besinler verilmiştir.



Karbonhidrat bakımından en zengin olan besinler hangi şıkta doğru olarak verilmiştir?

- A) Ceviz, Tavuk ve Zeytin
- B) Patates, Zeytin ve Tavuk
- C) Tavuk ve Patates
- D) Patates ve Mısır

Soru 8. Aşağıdakilerden hangisi yarı saydam bir madde değildir?

- A) Buzlu cam
- B) Tahta
- C) Sis
- D) Yağlı kağıt



Fen ve Teknoloji testi bitmiştir. Sosyal Bilgiler testini yanıtlamak için bir sonraki sayfaya geçiniz.